

**KÜSIMUSED 8. KLASSILE**

Nimi .....

Kool .....

Geograafiaõpetaja .....

**1. Eesti võistkond sõidab Austraaliasse Brisbane'i olümpiaadile.** Riiast lennatakse kell 7.10 Viini, kus ollakse kohal 8.10. Seal istutakse kell 10.30 Singapuri viivale lennukile, mis sõidab 11 tundi. Singapurist sõidetakse edasi kell 9.30 ja Brisbane jõutakse 19.30.

- a) Mis kell jõutakse Singapuri? \_\_\_\_\_
- b) Mitu tundi lennatakse Singapurist Brisbane'i? \_\_\_\_\_
- c) Mitu tundi ollakse õhus? \_\_\_\_\_
- e) Mitu tundi kestab reis Riiast Brisbane'i kokku? \_\_\_\_\_ **4 p.**

**2. Too näide, kuidas mõjutab kliima pinnamoodi ja kuidas pinnamood kliimat.** **4 p.**

- a) kliima mõju pinnamoele: \_\_\_\_\_  
\_\_\_\_\_
- b) pinnamoe mõju kliimale: \_\_\_\_\_  
\_\_\_\_\_

**3. Arva ära, millise maailma paigaga on tegu?**

Selles linnas on päike seniidis 23. septembril ning hetkel, kui päike on jõudnud oma päevase teekonna kõige kõrgemasse punkti, näitab kell Greenwichi meridiaanil (maailmaeg) 17:14. **3 p.**

See koht (linn) on \_\_\_\_\_ Riik: \_\_\_\_\_  
 Selles linnas on kell sel hetkel: \_\_\_\_\_ Manner: \_\_\_\_\_  
 Määra selle koha koordinaadid: \_\_\_\_\_ Maailmajagu: \_\_\_\_\_

**4. Täida tabel** **4 p.**

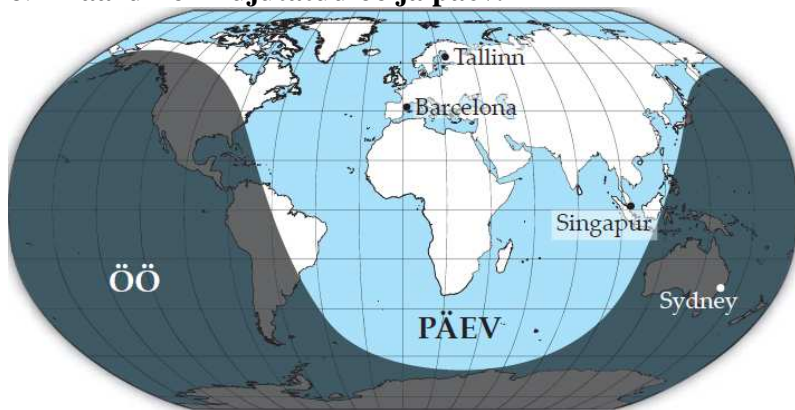
SAAR	RIIK, KELLELE SAAR KUULUB	SAARE KESKPUNKTI KOORDINAADID	KLIIMAVÖÖDE	LOODUSVÖÖND
Mani saar				
Jamaica				

**5. Selgita mõiste Okeania.** **1 p.**

Okeania kliimale on iseloomulik väike temperatuuri kõikumine nii ööpäeva kui aasta kestel. Selgita, miks on see nii. \_\_\_\_\_

**2 p.**

6. Kaardil on kujutatud öö ja päev.



a) Mis kuule on see kaart iseloomulik? **1 p.**   
Tõmba õigele vastusele joon alla.

*märts, juuni, september, detsember*

b) Kus on sel hetkel päev pikem?

1) Tallinnas või Barcelonas,

2) Singapuris või Sydneys? **1 p.**

7. Kaardil on tähtedega A ja B märgitud kaks piirkonda. Kuidas nimetatakse neid piirkondi?

Selgita pikemalt, mis põhjustab äärmise kuivuse või sademeterikkuse neis paikades.



Sademeterikas on piirkond \_\_\_\_\_ (kirjuta vastav täht) **1 p.**

Sademetevaene on piirkond \_\_\_\_\_ (kirjuta vastav täht).

Piirkond A \_\_\_\_\_

Selgitus \_\_\_\_\_ **2 p.**

Piirkond B \_\_\_\_\_

Selgitus \_\_\_\_\_ **2 p.**

8. Tõmba joon alla õigele vastusele! **4 p.**

1) Millisele riigile kuuluvad Kaimanisaared (Cayman Islands)?

Austraalia Ühendkuningriigid Ühendriigid Prantsusmaa

2) Milline alljärgnevatest riikidest on EU liige?

Küpros Norra Šveits Island

3) Ükski punkt Taani põhiterritooriumil ei ole merepiirist kaugemal kui:

500 km 50 km 100 km 1000 km

4) Euroopa Liidu kõige läänepoolsem punkt on:

Rocca neem Guadeloupe Moskva Jan Mayen

9. Iseloomusta Eesti geograafilist asendit. **2 p.**

1).....

2).....

3).....

4).....

3 p.

**10. Vaata skeemi ja vasta küsimustele.**  
Kuidas muutub merevee soolsus Läänemere eri osades?

---



---



---

Miks on lahesoppides,  
Peterburi ja Oulu juures vesi peaaegu mage?

---



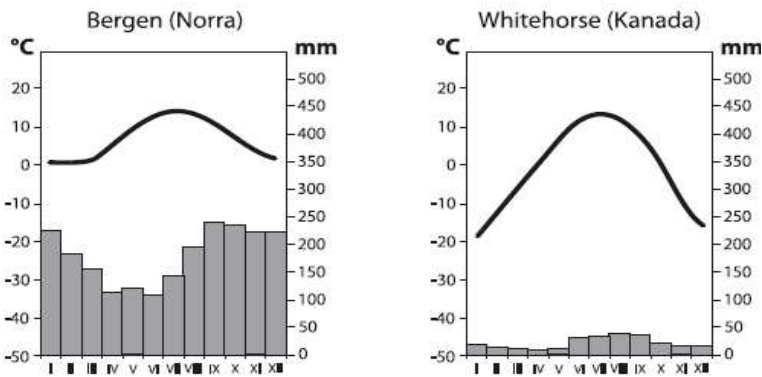
---



---



**11. Norra linn Bergen ja Kanada linn Whitehorse asuvad peaaegu samal laiuskraadil.**



Nimeta kliimadiagrammide põhjal kaks olulist erinevust Bergeni ja Whitehorse'i kliimas.

2 p.

- 1) \_\_\_\_\_
- 2) \_\_\_\_\_

Nimeta kaks põhjust, miks nende linnade kliima erineb.

2 p.

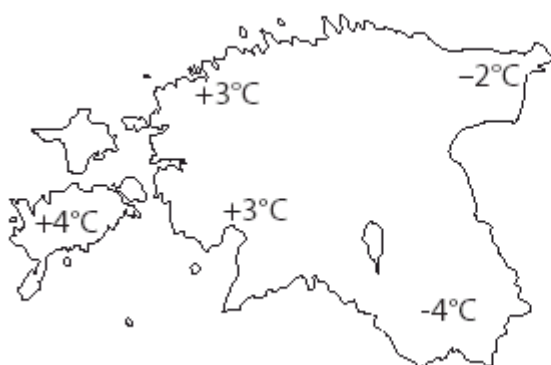
- 1) \_\_\_\_\_
- 2) \_\_\_\_\_

Mis ilmakaares asub Whitehorse Bergeniist vaadatuna? \_\_\_\_\_

1 p.

**12. Kaardil on kujutatud päevaseid õhutemperatuure. Otsusta, kas kaardil kujutatud olukord on tüüpiline kevadele või sügisele.**

2 p



Kaart iseloomustab ilma \_\_\_\_\_

Põhjenda vastust: \_\_\_\_\_

---



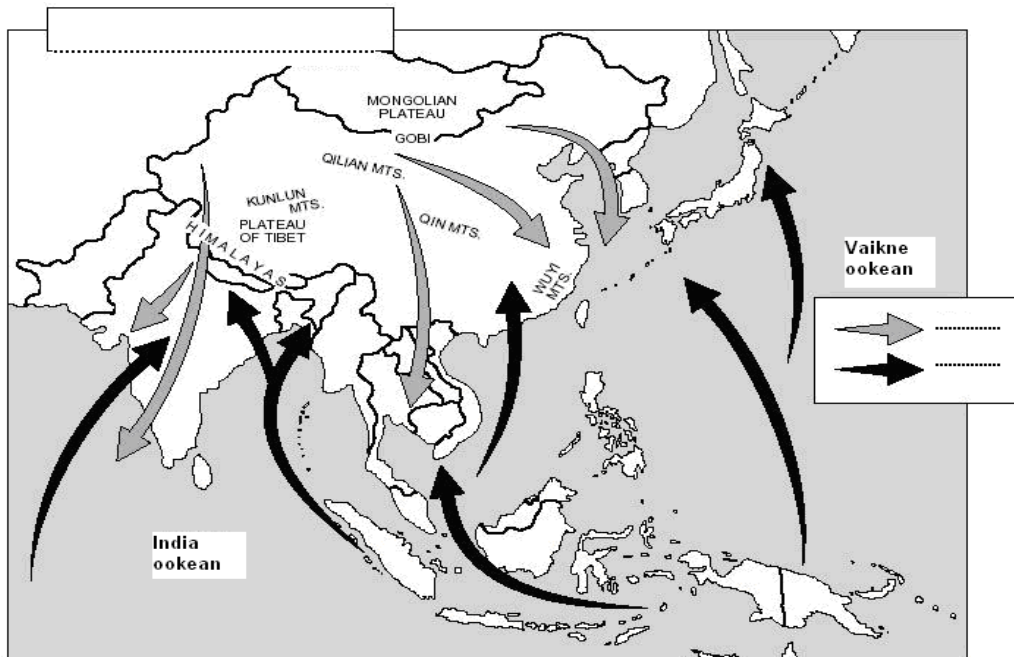
---




---

**13. Kaardil on kujutatud tuulesüsteemi Ida- ja Kagu-Aasias. Kirjuta kaardile võimalikult täpne pealkiri, legendi kirjuta tuulte nimetused.**

3 p.



**14. Skeemidel on kujutatud 3 Euroopa riiki.**



Riik \_\_\_\_\_  
Väited: \_\_\_\_\_

3 p.

- 1) Märki igale skeemile põhjasuund. 1 p.
- 2) Kirjuta riigi kontuuri alla tema täielik nimetus. 1 p.  
Tähista pealinna asukoht ja kirjuta kõrvale selle nimi. 1 p.
- 3) Jaota järgmised väited nende riikide vahel (1 jääb üle) ja kirjuta väite ees olev täht riigi nime alla.

- A maailma suurim apelsinide tootja
- B EL-i liige aastast 1973
- C Umbes 50% selles riigis sündinud inimestest elab väljaspool oma sünnimaad
- D 12.oktoober on riigi rahvuspäha (geograafiline sündmus aastast 1492, 12.10)
- E 81% maismaast on põllumajanduslik maa
- F Legendide järgi on selle maa veinid maailma vanimad (2000 a e Kr)
- G 70% selle riigi territooriumist on kaetud metsadega
- H Selles riigis on roheline värv õnnvärv
- I See riik on Eestiga samas ajavööndis
- J Siiamaani on 1/3 riigi territooriumist okupeeritud naaberriigi poolt.

**KOKKU 50 PUNKTI**